



PROMETNA PRAVILA



Desno pravilo



Desno pravilo

PROMETNA PRAVILA

Kratka učna snov 🧐

Prometna pravila skrbijo, da promet poteka varno in tekoče. V tem poglavju boš utrjeval prometna pravila na različnih križiščih.

1. Križišče

Je prometna površina, kjer se združi ali križa več cest. Poznamo križišča enakovrednih cest, križišča, kjer je promet urejen s prometnimi znaki, in križišča, kjer promet urejajo semaforji. Na vseh križiščih pa lahko promet ureja tudi policist.

Osnovne oblike križišč



Križišče v obliki črke T



Križišče v obliki križa ali črke X



Križišče v obliki črke Y



Križišče v obliki kroga oz. črke O

Na mestih, kjer se poti udeležencev na križišču sekajo, nastopijo **točke možnega trčenja (TMT)**. Na teh mestih tudi dejansko lahko pride do tega, da s kom trčiš.

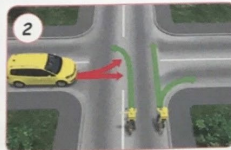
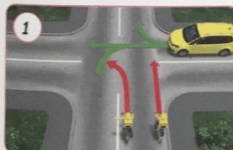


Jaz sem pa mislil, da je TMT TA MAJHNA TOČKA.



2. Desno pravilo

Po njem se ravnaš, kadar drugo vozilo pripelje s tvoje **desne** (bočne) **strani**. Vajini poti se križata in oba vozila po enakovrednih cestah oz. sta oba na prednostnih oz. na neprednostnih cestah.



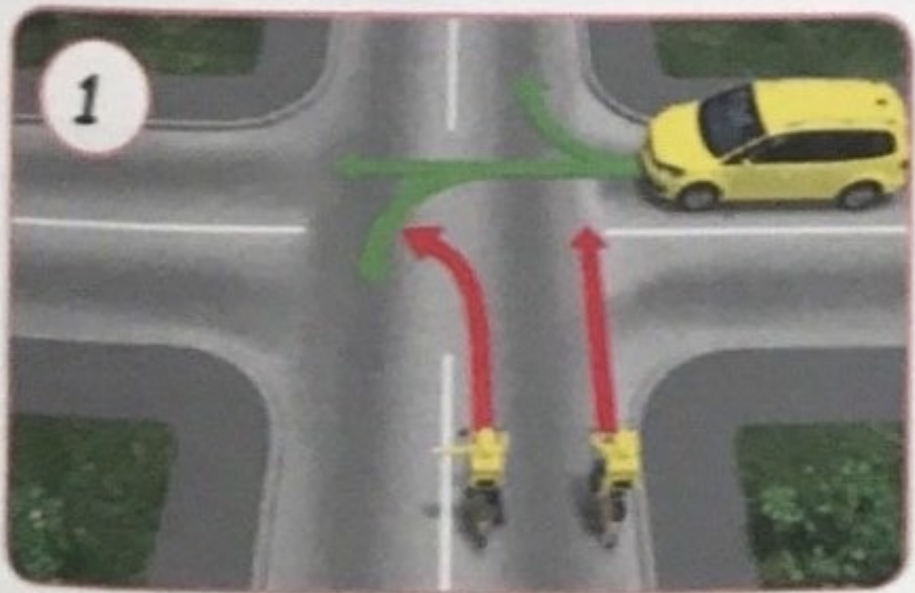
Če imaš na svoji desni vozilo, nimaš prednosti. ①

Če vozila na desni nimaš, imaš prednost in lahko pelješ čez križišče. ②

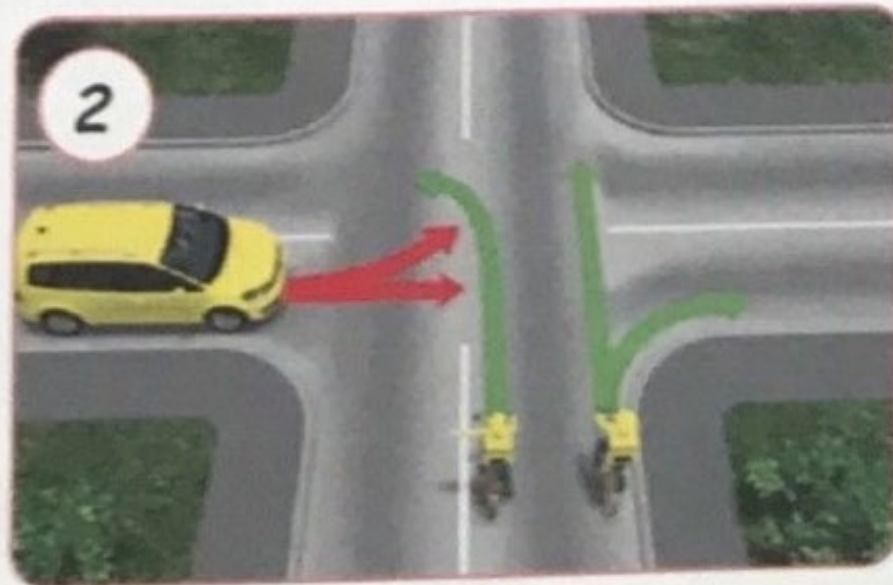
2. Uredi si zapis v zvezek.

Desno pravilo

Po njem se ravnaš, kadar drugo vozilo pripelje s tvoje **desne** (bočne) **strani**. Vajini poti se križata in oba vozita po enakovrednih cestah oz. sta oba na prednostnih oz. na neprednostnih cestah.



Če imaš na svoji desni vozilo, nimaš prednosti. ①



Če vozila na desni nimaš, imaš prednost in lahko pelješ čez križišče. ②

3. Reši:

- DZ str.: 51 N: 1. (**pošlji** zaporedje števil).
- DZ str.: 52 N: 2. (**pošlji** fotografijo rešene naloge).
- DZ str.: 53 N: 5. in N: 6. (**pošlji** fotografijo rešene naloge).
- DZ str.: 54 N: 7., N: 8 in N: 9. (**pošlji** fotografijo rešene naloge).

Preglej.

2 Pika na sliki se približuje križišču. Križišču sta se približala tudi dva avtomobila.

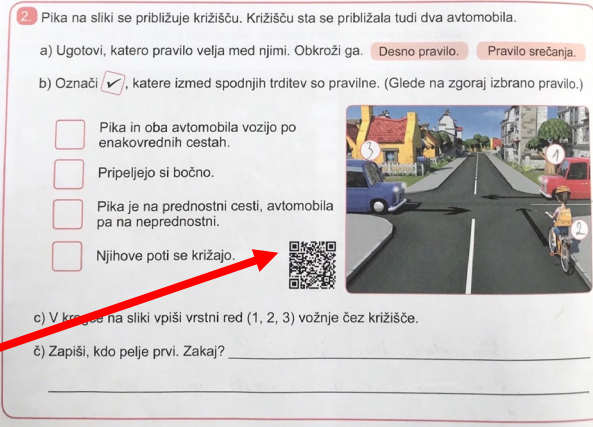
a) Ugotovi, katero pravilo velja med njimi. Obkroži ga. **Desno pravilo.** **Pravilo srečanja.**

b) Označi , katere izmed spodnjih trditev so pravilne. (Glede na zgoraj izbrano pravilo.)

- Pika in oba avtomobila vozijo po enakovrednih cestah.
- Pripeljejo si bočno.
- Pika je na prednostni cesti, avtomobila pa na neprednostni.
- Njihove poti se križajo.

c) V krogu na sliki vpiši vrstni red (1, 2, 3) vožnje čez križišče.

č) Zapiši, kdo pelje prvi. Zakaj?



11. Luka na neprednostni cesti želi zapeljati čez križišče. Na drugem prehodu za pešce so pešci, zato mora počakati, da se umaknejo s prehoda. Ugotovi na kateri sliki je Luka pravilno ustavil.

Označi

Pogovorite se o tem.



4. Delo v spletni učilnici:

V spletni učilnici te čaka še veliko več fotografij z razlago in filmčkov.

- Oglej si jih za še boljše razumevanje (po želji).

▼ 5 PROMETNA PRAVILA

- ▶ 5.1 Križišča in prometna pravila
- ▶ 5.2 Križišče enakovrednih cest
- ▶ 5.3 Križišče prednostne in neprednostne ceste
- ▶ 5.4 Krožna križišča
- ▶ 5.5 Semaforizirana križišča
- ▶ 5.6 Policist na križišču in vozila na nujni vožnji

Igrajmo se!

- KVIZ - Prometna pravila 1 del
- KVIZ - Prometna pravila 2 del
- KVIZ - Križišče enakovrednih cest
- KVIZ - Prednostna in neprednostna cesta
- KVIZ - Krožno križišče, semafor in policist

Rešuj, da utrdiš in preveriš svoje znanje (po želji).