

Četrtek, 2. 4. 2020




Zdravo učenci.. Dobila sem kar nekaj fotografij robotov. Zelo ste se trudili. Upam tudi, da ste bili pri delu v učnih skupinah uspešni. Pred vami pa so že nove naloge.

SLJ: Domača naloga

- Ne skrbi ne bo domače naloge. Danes boš učno snov obravnaval malo drugače.
- V DZ na str. 82 je pri 5. nalogi navodilo, kako se lotiš dela. Preberi ga vsaj dvakrat. Veš, kako boš delal? Če ne, preberi še enkrat. Delaš lahko sam po navodilu, če pa imaš starša ob sebi, je starš tvoj par in bere enkrat on, enkrat ti.
- **Bistvo navodila je:** preberi **1. del** in v **tabeli predvidevanja** odgovori na vprašanji: Kaj misliš, da se bo zgodilo? in Zakaj misliš, da se bo tako zgodilo?, nato preberi **2. del** in odgovori na vprašanje: Kaj se je v resnici zgodilo? Postopek ponoviš pri 3. in 4. delu.
- Ko je tabela izpolnjena, si končal z delom.

MAT: Preverjanje znanja

- Nadaljuj s preverjanjem znanja v DZ na str. 50. Pri 9.b nalogi napiši račun z ulomkom.
- Starše prosi, da pregledajo tvoje delo. Pomagajo si lahko z **rešitvami**.
- * Če želiš, lahko rešiš naloge, ki so ostale na prejšnjih straneh.
- Želim izvedeti, kako si bil uspešen pri preverjanju znanja. Pripravila sem tabelo, v kateri boš z ustreznim »smejčkom« označil tvojo uspešnost. Starše pa prosim, da jo fotografirajo in mi pošljejo fotografijo tabele.

Naloga			
1.			
2.			
3.			
4.			
5.			
6.			
7.			
8.			
9. a			
9. b			

*Če je potrebno, kaj boš naredil, da boš uspešen?

DRU: Podeželjsko naselje

- Razloži pojem NASELJE. Razlaga je v UČ na str. 40(zadnji odstavek).
- **Poznamo dve vrsti naselij: podeželsko naselje in mestno naselje.**
- Katera vrsta naselja je spodnjih fotografijah? Seveda je to podeželjsko naselje.
- Natančno si oglej spodnji fotografiji. **Povej, kaj je značilno za podeželje. Kaj je okoli naselij?**



Zapiši (ali sprintaj in zalepi) v zvezek.

Naselja

1. Podeželska naselja.
2. Mestno naselje.

Podeželjska naselja

Značilnosti: v okolici naselja so njive, gozdovi, vinogradi, travniki. Ljudje se delno ukvarjajo s kmetijstvom, delajo v obrtnih delavnicah, v manjših tovarnah. Imajo trgovine, vrtce, šole, kapelice. Najbolj pogosta oblika naselij so vasi.

Dopolni spodnji zapis.

Življenje na podeželju

- a) Prednosti:
- b) Slabosti:

GUM: Notno črtovje

DZ, str.65

- Oglej si zapis v notnem črtovju.
- Preberi besedilo na tej strani.

Pomembno: note na različnih črtah in prazninah pomenijo različne višine in jih lahko zapojemo.

- Tisti, ki igrate inštrument, zaigrajte melodijo.
- Poskusite narediti 3. nal. na str. 66.

Zdaj pa si privoščite zasluženi počitek, naj bo aktiven z vajami, ki vam jih je pripravil učitelj športa.

