

ŠTEVILA  
OD 10 DO 15



PONOVIMO

UREDİ ŠTEVILA PO VRSTI OD NAJMANJŠEGA DO  
NAJVEČJEGA.

5

7

3

10

8



SI ŠTEVILA UREDIL PRAVILNO?

3, 5, 7, 8, 10



UREDÍ ŠTEVILA PO VELIKOSTI OD NAJVEČJEGA  
DO NAJMANJŠEGA.

9

5

1

2

6



SI ŠTEVILA UREDIL PRAVILNO?

9, 6, 5, 2, 1



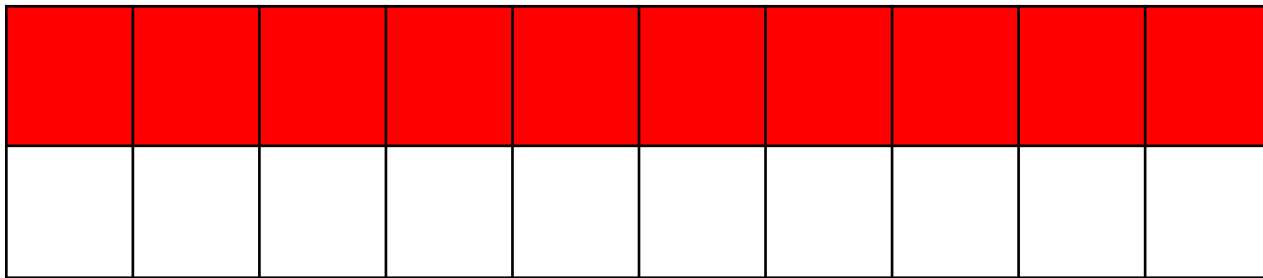
ŠTEJ OD 1 DO 10.

SEDAJ PA POSKUSI ŠTETI OD 10 DO 1.

DANES BOMO SPOZNALI ŠTEVILA OD 10 DO 15

VEŠ KATERA ŠTEVILA SO TO?  
HITRO JIH NAŠTEJ.

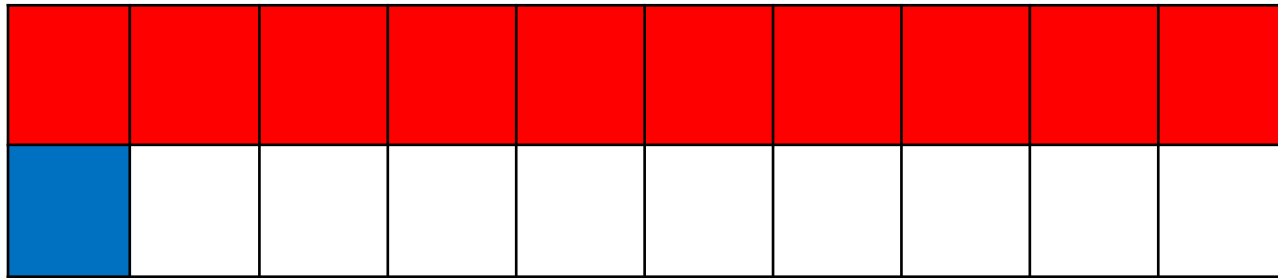
# 10 DESET



ŠTEVILO 10 SMO MI ŽE SPOZNALI. HITRO RAZMISLI, KATERO ŠTEVILO JE NASLEDNIK ŠTEVILA 10.

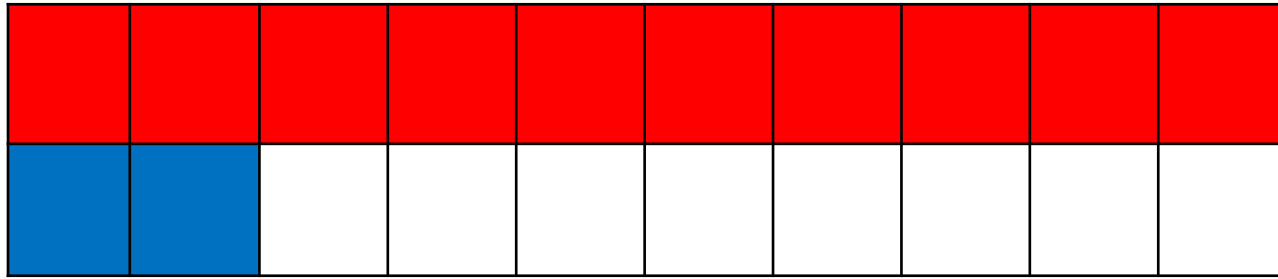


11 ENAJST



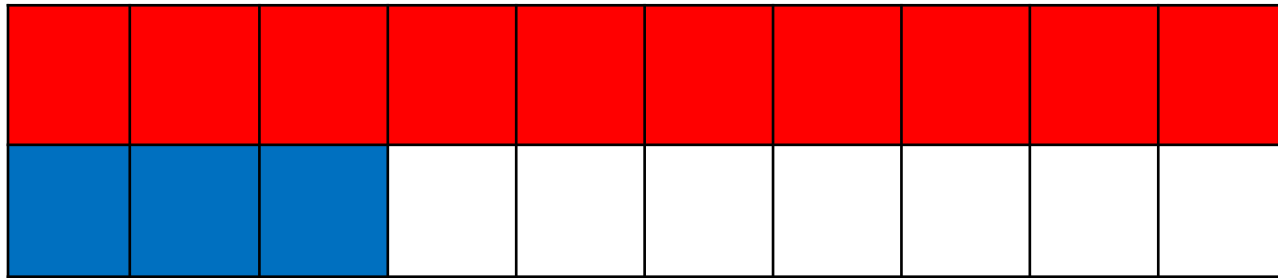
$$10 + 1 = 11$$

12 DVANAJST



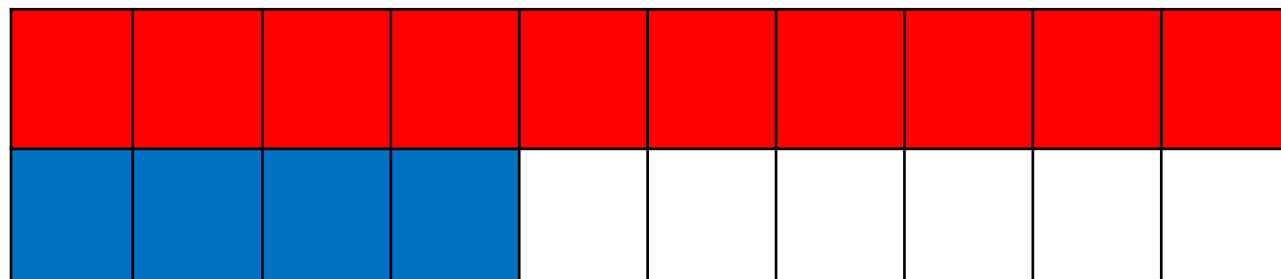
$$10 + 2 = 12$$

13 TRINAJST



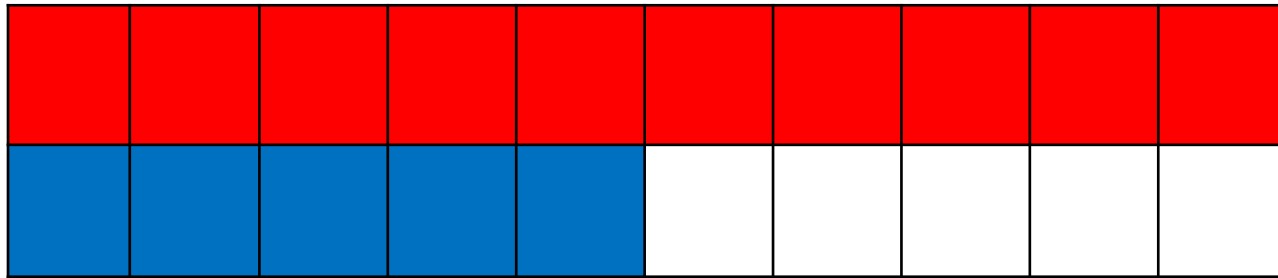
$$10 + 3 = 13$$

14 ŠTIRINAJST



$$10 + 4 = 14$$

15 PETNAJST



$$10 + 5 = 15$$

ŠTEJ OD NAJMANJŠEGA DO NAJVEČJEGA ŠTEVILA.

1, 2, 3, 4, 5, 6, 7, 8, 9, 10,

11, 12, 13, 14, 15

ŠTEJ OD NAJVEČJEGA DO NAJMANJŠEGA ŠTEVILA.

**15, 14, 13, 12, 11, 10, 9, 8, 7, 6, 5, 4, 3,**

**2, 1**



**TAKO, SPOZNALI  
SMO ŠTEVILA:  
11, 12, 13, 14 IN 15.  
VIDIŠ, DA NI TEŽKO  
ŠTETI ČEZ 10.**