

ŠTEVILA

OD 16 DO 20



PONOVIMO

UREDİ ŠTEVILA PO VRSTI OD NAJMANJŠEGA DO
NAJVEČJEGA.

6

11

9

14

4



SI ŠTEVILA UREDIL PRAVILNO?

4, 6, 9, 11, 14



UREDÍ ŠTEVILA PO VELIKOSTI OD NAJVEČJEGA
DO NAJMANJŠEGA.

8

11

10

12

6



SI ŠTEVILA UREDIL PRAVILNO?

12, 11, 10, 8, 6



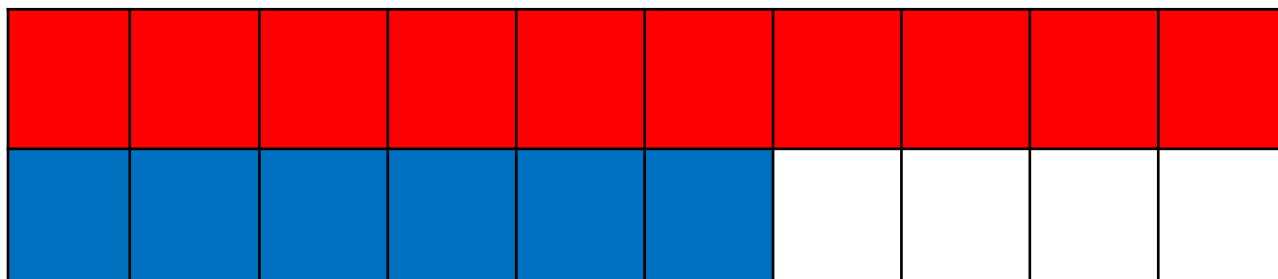
ŠTEJ OD 1 DO 15.

SEDAJ PA POSKUSI ŠTETI OD 15 DO 1.

DANES BOMO SPOZNALI ŠTEVILA OD 16 DO 20

VEŠ KATERA ŠTEVILA SO TO?
HITRO JIH NAŠTEJ.

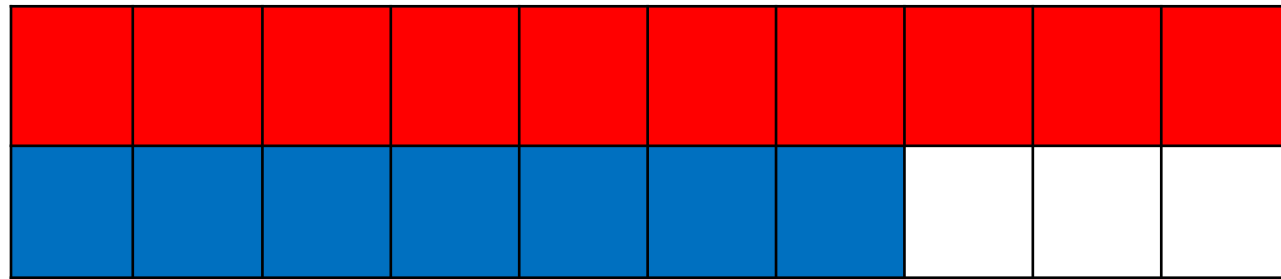
16 ŠESTNAJST



$$10 + 6 = 16$$

ŠTEVILO 16 IMA 1 DESETICO IN 6 ENIC → 1D 6E

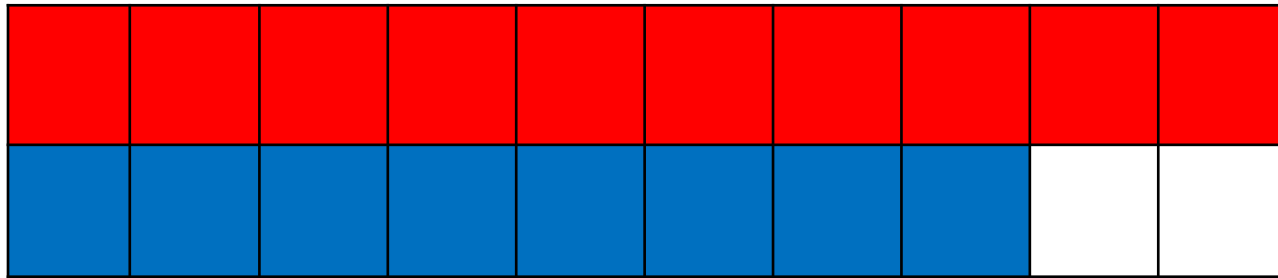
17 SEDEMNAJST



$$10 + 7 = 17$$

ŠTEVILO 17 IMA 1 DESETICO IN 7 ENIC → 1D 7E

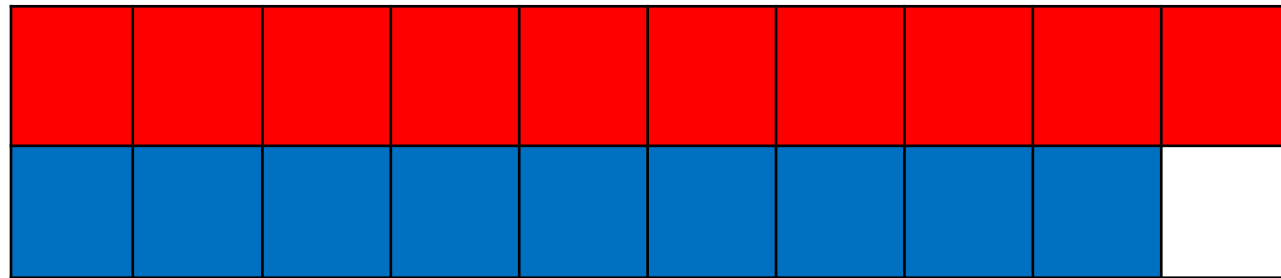
18 OSEMNAJST



$$10 + 8 = 18$$

ŠTEVILO 18 IMA 1 DESETICO IN 8 ENIC → 1D 8E

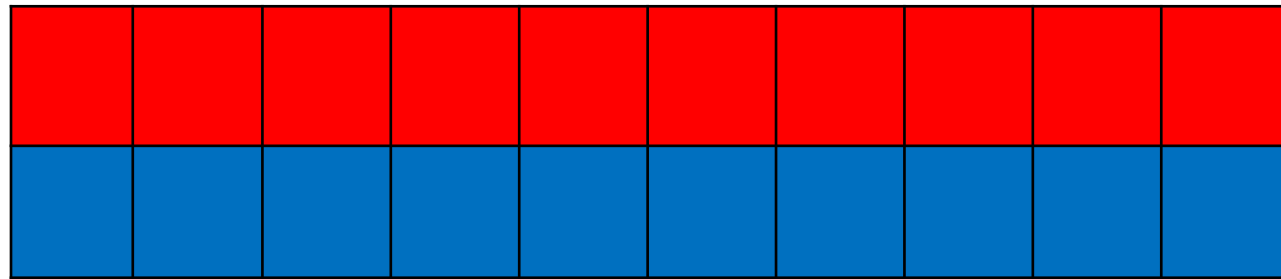
19 DEVETNAJST



$$10 + 9 = 19$$

ŠTEVILO 19 IMA 1 DESETICO IN 9 ENIC → 1D 9E

20 DVAJSET



ŠTEVILO 20 IMA 2 DESETICI IN 0 ENIC → 2D 0E

ŠTEJ OD 1 DO 20.



TI GRE TUDI ŠTETJE OD 20 DO 1?

**ČESTITKE,
SEDAJ POZNAŠ
ŠTEVILA DO 20.**

