
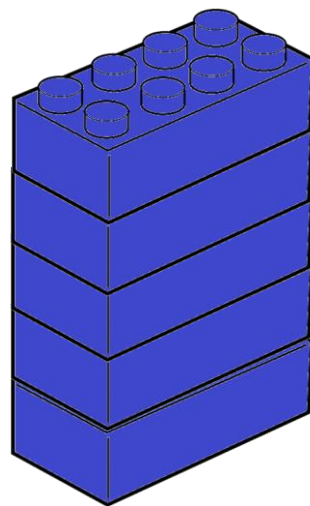


**ŠTEVILA DO 15,
PREDHODNIK IN
NASLEDNIK**



DESETICA -> D



ENICA -> E

$$10 + 5 = 15$$

9 ŠTEVILO **9** IMA **9** ENIC.

10 ŠTEVILO **10** IMA **1** DESETICO IN **0** ENIC.

11 ŠTEVILO **11** IMA **1** DESETICO IN **1** ENICO.

12 **12** → **1** D **2** E

13 **13** → **1** D **3** E

14 **14** → **1** D **4** E

15 **15** → **1** D **5** E

KAKO ZAPIŠEMO IN BEREMO ŠTEVILA VEČJA OD 10




15

15

KADAR ŠTEVILO **ZAPIŠEMO**,
VEDNO NAJPREJ ZAPIŠEMO
DESETICE (RDEČE) IN NATO
ENICE (MODRE).

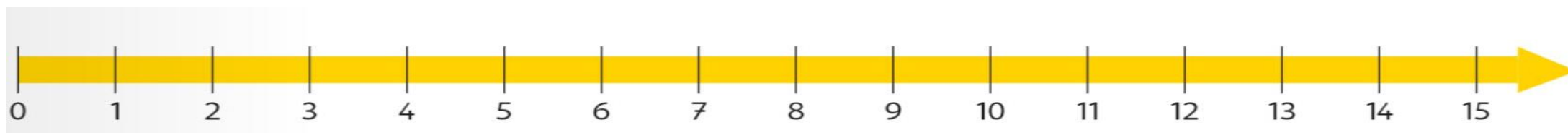
KADAR ŠTEVILO **PREBEREMO**,
VEDNO NAJPREJ PREBEREMO
ENICE (MODRE) IN NATO
DESETICE (RDEČE).




PREDHODNIK - 1

+ 1 NASLEDNIK


ŠTEVILO



- **PREDHODNIK** STOJI PRED IZBRANIM ŠTEVILOM (LEVO) IN JE ZA 1 **MANJŠI** OD IZBRANEGA ŠTEVILA.
- **NASLEDNIK** JE NASLEDNJI OD IZBRANEGA ŠTEVILA (DESNO) IN JE ZA 1 **VEČJI** OD IZBRANEGA ŠTEVILA.



- KATERI BALON JE **PRED** BALONOM S ŠTEVILOM 10?
ŠTEVILO 9 JE **PREDHODNIK** ŠTEVILA 10.
- KATERI BALON JE **ZA** BALONOM S ŠTEVILOM 12?
ŠTEVILO 13 JE **NASLEDNIK** ŠTEVILA 12.
- KATERO ŠTEVILO JE **PREDHODNIK** ŠTEVILA 8?
- KATERO ŠTEVILO JE **NASLEDNIK** ŠTEVILA 14?



P	Š	N
13	14	15
10	11	12
9	10	11
12	13	14

PREDHODNIK	11	13	8	5
ŠTEVILO	12	14	9	6
NASLEDNIK	13	15	10	7

SEDAJ POSKUŠI ŠE SAM. TABELO PRERIŠI V KARIRASTI ZVEZEK.

PREDHODNIK	ŠTEVILO	NASLEDNIK
	9	
	12	
	3	
	8	
	14	
	2	